



केन्द्रीय रिजर्व पुलिस बल CENTRAL RESERVE POLICE FORCE

Test Date	11/03/2023
Test Time	12:30 PM - 02:00 PM
Subject	Head Constable Ministerial

Section : Hindi Language

Q.1 निम्न में से शुद्ध मुहावरे का चयन करें-

- Ans
- A. रंगा भेड़िया होना
 - B. रंगा शेर होना
 - C. रंगा सियार होना
 - D. रंगा बिल्ला होना

Question ID : 630680183403

Status : Answered

Chosen Option : C

Q.2 दिए गए वाक्य का कौन-सा शब्द वर्तनी की दृष्टि से अशुद्ध है?
गाँवों में आमतौर पर लोग परिवार नियोजन के बारे में अशीक्षित हैं।

- Ans
- A. नियोजन
 - B. आमतौर
 - C. अशीक्षित
 - D. परिवार

Question ID : 630680183401

Status : Answered

Chosen Option : C

Q.3 निम्नलिखित में से तात्कालिक वर्तमान काल का उदाहरण वाक्य है-

- Ans
- A. वह इस समय रियाज कर रहा है, उसे परेशान मत कीजिए।
 - B. वे बच्चे उस पहाड़ी के पीछे की घाटी में क्रिकेट खेलते हैं।
 - C. धीरे-धीरे कुछ नहीं मिलता है सिर्फ मौत मिलती है।
 - D. आप तो सुबह से शाम तक ऐसे ही बातें बनाते हैं।

Question ID : 630680183414

Status : Answered

Chosen Option : A

Q.4 दिए गए शब्दों में से सर्वोचित शब्द से निम्नलिखित वाक्य पूर्ण करें—
बड़ा _____ लड़का है, काले ज़हरीले साँप को भी पकड़ लेता है।

- Ans A. वीर
 B. निर्भीक
 C. दिलेर
 D. ओजस्वी

Question ID : 630680183399
Status : Answered
Chosen Option : B

Q.5 निम्न में से कौन-सा विलोम-युग्म असुमेलित है?

- Ans A. अविनि - पाताल
 B. अवर - प्रवर
 C. अवसर - अनवसर
 D. अवनत - उन्नत

Question ID : 630680183400
Status : Answered
Chosen Option : A

Q.6 निम्न में से 'कली' का पर्याय है-

- Ans A. प्रसून
 B. मुकुल
 C. कुसुम
 D. मुकुंद



INDIA

Question ID : 630680183397
Status : Answered
Chosen Option : D

Q.7 वाक्य-विन्यास की दृष्टि से शुद्ध वाक्य का चयन करें-

- Ans A. जीवनी विधा का स्वातंत्र्योत्तर काल को उत्कर्ष काल कहा जा सकता है।
 B. उत्कर्ष काल कहा जा सकता है जीवनी विधा का स्वातंत्र्योत्तर काल को।
 C. स्वातंत्र्योत्तर काल को जीवनी विधा का उत्कर्ष काल कहा जा सकता है।
 D. उत्कर्ष काल कहा जा सकता है स्वातंत्र्योत्तर काल को जीवनी विधा का।

Question ID : 630680183411
Status : Answered
Chosen Option : C

Q.8 निम्न में से शुद्ध मुहावरे का चयन करें-

- Ans A. खून-ऑसू एक करना
 B. खून-पसीना एक करना
 C. खून-थूक एक करना
 D. खून-पानी एक करना

Question ID : 630680183404

Status : Answered

Chosen Option : B

Q.9 सर्वोचित शब्द से वाक्य पूर्ण करें-

गाँधीजी के सामाजिक आदर्श सर्वोदय का अर्थ है सबकी _____ और उसका ध्येय है, हृदय परिवर्तन।

- Ans A. स्वतंत्रता
 B. अवनति
 C. सहानुभूति
 D. उन्नति

Question ID : 630680183410

Status : Answered

Chosen Option : A

Q.10 वाक्य-विन्यास की दृष्टि से शुद्ध वाक्य का चयन करें-

- Ans A. हिंदी साहित्य पर यत्र-तत्र देखा जा सकता है बौद्धदर्शन की विचारधारा का प्रभाव।
 B. बौद्धदर्शन की विचारधारा का हिंदी साहित्य पर यत्र-तत्र प्रभाव देखा जा सकता है।
 C. प्रभाव देखा जा सकता है बौद्धदर्शन की विचारधारा का यत्र-तत्र हिंदी साहित्य पर।
 D. देखा जा सकता है हिंदी साहित्य पर यत्र-तत्र प्रभाव बौद्धदर्शन की विचारधारा का।

Question ID : 630680183408

Status : Answered

Chosen Option : B

Q.11 विरोधवाचक सम्बंधबोधक शब्द से वाक्य पूर्ण करें-

आसिम और राम _____ विचारधारा के होते हुए भी अच्छे मित्र हैं।

- Ans A. विपरीत
 B. अनुकूल
 C. समान
 D. सदृश

Question ID : 630680183416

Status : Answered

Chosen Option : A

Q.12 'मदनशलाका' का पर्याय निम्न में से है-

- Ans
- A. शुक
 - B. काग
 - C. कोकिल
 - D. हंस

Question ID : 630680183398
Status : Answered
Chosen Option : B

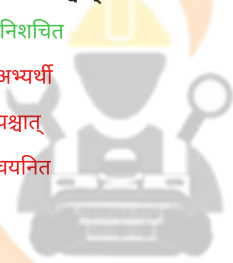
Q.13 निम्न में से शुद्ध लोकोक्ति का चयन करें-

- Ans
- A. तबेले की बला भालू के सिर
 - B. तबेले की बला बैल के सिर
 - C. तबेले की बला बंदर के सिर
 - D. तबेले की बला भैंस के सिर

Question ID : 630680183406
Status : Answered
Chosen Option : D

Q.14 दिए गए वाक्य का कौन-सा शब्द वर्तनी की दृष्टि से अशुद्ध है?
चयनित होने के पश्चात् वेतन अभ्यर्थी की योग्यता के अनुसार निश्चित किया जाएगा।

- Ans
- A. निश्चित
 - B. अभ्यर्थी
 - C. पश्चात्
 - D. चयनित



INDIA

Question ID : 630680183402
Status : Answered
Chosen Option : A

Q.15 'जो केंद्र से हटकर दूर जाता हो' वाक्यांश के लिए एक शब्द होगा-

- Ans
- A. केंद्राभिसारी
 - B. केंद्रीकृत
 - C. केंद्रगामी
 - D. केंद्रापसारी

Question ID : 630680183413
Status : Answered
Chosen Option : A

Q.16 सर्वोचित शब्द से वाक्य पूर्ण करें-

छायावादी कविता का सौंदर्यबोध अपनी सामान्यता में नहीं, विशिष्टता में ध्यान _____ करता है।

- Ans
- A. विकर्षित
 - B. भटकाया
 - C. आकर्षित
 - D. आकर्णन

Question ID : 630680183409

Status : Answered

Chosen Option : C

Q.17 वाक्य-विन्यास की दृष्टि से शुद्ध वाक्य का चयन करें-

- Ans
- A. सफल खंड काव्यों की रचना की है भक्तिधारा के सगुण कुछ कवियों ने।
 - B. भक्तिधारा के सगुण कुछ कवियों ने सफल खंड काव्यों की रचना की है।
 - C. कुछ कवियों ने सफल खंड काव्यों की रचना की है सगुण भक्तिधारा के।
 - D. सगुण भक्तिधारा के कुछ कवियों ने सफल खंड काव्यों की रचना की है।

Question ID : 630680183407

Status : Answered

Chosen Option : D

Q.18 उचित स्थितिवाचक अव्यय शब्द से वाक्य पूर्ण करें-
गीता का फ्लैट मेरे फ्लैट के _____ है।

- Ans
- A. दाहिने
 - B. भीतर
 - C. इधर
 - D. ऊपर



INDIA

Question ID : 630680183415

Status : Answered

Chosen Option : D

Q.19 निम्न में से शुद्ध लोकोक्ति का चयन करें-

- Ans
- A. अंधे के हाथ मैना लगना
 - B. अंधे के हाथ तीतर लगना
 - C. अंधे के हाथ मुर्गी लगना
 - D. अंधे के हाथ बटेर लगना

Question ID : 630680183405

Status : Answered

Chosen Option : D

Q.20 'अधिक समय तक जीते रहने को इच्छुक' वाक्यांश के लिए एक शब्द होगा-

- Ans A. जिगीषु
 B. जिजीविषु
 C. जिज्ञासु
 D. जिघांसु

Question ID : 630680183412

Status : Answered

Chosen Option : B

Comprehension:

निम्नलिखित गद्यांश पर आधारित दिए गए प्रश्नों के उत्तर दीजिए:

किसी समाचार-पत्र अथवा पत्रिका के व्यक्तित्व को उभारने में, उसमें प्रकाशित फीचर का बहुत योगदान रहता है। फीचर एक ऐसा रचनात्मक तथा कुछ-कुछ स्वानुभूतिमूलक लेख होता है, जिसका गठन किसी घटना, स्थिति अथवा जीवन के किसी पक्ष के संबंध में पाठक का मूलतः मनोरंजन करने एवं सूचना देने के उद्देश्य से किया गया हो। दृश्यात्मकता इसका आवश्यक गुण है, यानी कहने का ढंग ऐसा हो कि पाठक के सामने उस स्थान, परिवेश और घटना का चित्र उपस्थित हो जाए। फीचर स्थिति का विहंगावलोकन ही नहीं करता, वह प्रश्नों का उत्तर भी देता है और अज्ञात का ज्ञान भी कराता है। अच्छे फीचर के आधार हैं- जिज्ञासा, सच्चाई, चित्रात्मकता और स्पष्ट विश्लेषण। स्पष्ट विश्लेषण के अभाव में वह दुरूह, विचार-प्रधान निबंध बन जाएगा। चित्रात्मकता और रोचकता के अभाव में वह रिपोर्टाज बनकर रह जाएगा। सत्य को आकर्षक, जिज्ञासामूलक, ज्ञानवर्द्धक ढंग से सामने लाना फीचर का मुख्य उद्देश्य होता है, इसलिए उसमें तथ्यों के प्रभाव और महत्त्व पर विशेष बल दिया जाता है। फीचर का शीर्षक उसका प्राण है। यह 'ड्राइंगरूम' में बैठकर लिखने की विधा नहीं है, जीवन और जगत के संघर्षों से जुड़कर प्राप्त जीवनानुभवों को दृश्यमूलक शब्दों में बाँधने, जाँचने-परखने और समाज के साथ उन पर सार्थक बहस करने के लिए प्रस्तुत की गई विधा है।

SubQuestion No : 21

Q.21 अच्छे फीचर का आधार निम्न में से नहीं है-

- Ans A. कल्पना
 B. स्पष्ट विश्लेषण
 C. जिज्ञासा
 D. चित्रात्मकता

Question ID : 630680183419

Status : Answered

Chosen Option : A

Comprehension:

निम्नलिखित गद्यांश पर आधारित दिए गए प्रश्नों के उत्तर दीजिए:

किसी समाचार-पत्र अथवा पत्रिका के व्यक्तित्व को उभारने में, उसमें प्रकाशित फीचर का बहुत योगदान रहता है। फीचर एक ऐसा रचनात्मक तथा कुछ-कुछ स्वानुभूतिमूलक लेख होता है, जिसका गठन किसी घटना, स्थिति अथवा जीवन के किसी पक्ष के संबंध में पाठक का मूलतः मनोरंजन करने एवं सूचना देने के उद्देश्य से किया गया हो। दृश्यात्मकता इसका आवश्यक गुण है, यानी कहने का ढंग ऐसा हो कि पाठक के सामने उस स्थान, परिवेश और घटना का चित्र उपस्थित हो जाए। फीचर स्थिति का विहंगावलोकन ही नहीं करता, वह प्रश्नों का उत्तर भी देता है और अज्ञात का ज्ञान भी कराता है। अच्छे फीचर के आधार हैं- जिज्ञासा, सच्चाई, चित्रात्मकता और स्पष्ट विश्लेषण। स्पष्ट विश्लेषण के अभाव में वह दुरूह, विचार-प्रधान निबंध बन जाएगा। चित्रात्मकता और रोचकता के अभाव में वह रिपोर्टाज बनकर रह जाएगा। सत्य को आकर्षक, जिज्ञासामूलक, ज्ञानवर्द्धक ढंग से सामने लाना फीचर का मुख्य उद्देश्य होता है, इसलिए उसमें तथ्यों के प्रभाव और महत्त्व पर विशेष बल दिया जाता है। फीचर का शीर्षक उसका प्राण है। यह 'ड्राइंगरूम' में बैठकर लिखने की विधा नहीं है, जीवन और जगत के संघर्षों से जुड़कर प्राप्त जीवनानुभवों को दृश्यमूलक शब्दों में बाँधने, जाँचने-परखने और समाज के साथ उन पर सार्थक बहस करने के लिए प्रस्तुत की गई विधा है।

SubQuestion No : 22

Q.22 फीचर में दृश्यात्मकता से तात्पर्य है-

- Ans A. पाठक को प्रत्यक्ष तौर पर घटना को दिखाया जाना।
 B. अभिनय के माध्यम से घटना को प्रस्तुत करना।
 C. इस ढंग से लेखन कि पाठक के समक्ष घटना का चित्र उपस्थित हो जाए।
 D. चित्र के माध्यम से घटना का परिदृश्य प्रस्तुत करना।

Question ID : 630680183421

Status : Answered

Chosen Option : A

Comprehension:

निम्नलिखित गद्यांश पर आधारित दिए गए प्रश्नों के उत्तर दीजिए:

किसी समाचार-पत्र अथवा पत्रिका के व्यक्तित्व को उभारने में, उसमें प्रकाशित फीचर का बहुत योगदान रहता है। फीचर एक ऐसा रचनात्मक तथा कुछ-कुछ स्वानुभूतिमूलक लेख होता है, जिसका गठन किसी घटना, स्थिति अथवा जीवन के किसी पक्ष के संबंध में पाठक का मूलतः मनोरंजन करने एवं सूचना देने के उद्देश्य से किया गया हो। दृश्यात्मकता इसका आवश्यक गुण है, यानी कहने का ढंग ऐसा हो कि पाठक के सामने उस स्थान, परिवेश और घटना का चित्र उपस्थित हो जाए। फीचर स्थिति का विहंगावलोकन ही नहीं करता, वह प्रश्नों का उत्तर भी देता है और अज्ञात का ज्ञान भी कराता है। अच्छे फीचर के आधार हैं- जिज्ञासा, सच्चाई, चित्रात्मकता और स्पष्ट विश्लेषण। स्पष्ट विश्लेषण के अभाव में वह दुरूह, विचार-प्रधान निबंध बन जाएगा। चित्रात्मकता और रोचकता के अभाव में वह रिपोर्टाज बनकर रह जाएगा। सत्य को आकर्षक, जिज्ञासामूलक, ज्ञानवर्द्धक ढंग से सामने लाना फीचर का मुख्य उद्देश्य होता है, इसलिए उसमें तथ्यों के प्रभाव और महत्त्व पर विशेष बल दिया जाता है। फीचर का शीर्षक उसका प्राण है। यह 'ड्राइंगरूम' में बैठकर लिखने की विधा नहीं है, जीवन और जगत के संघर्षों से जुड़कर प्राप्त जीवनानुभवों को दृश्यमूलक शब्दों में बाँधने, जाँचने-परखने और समाज के साथ उन पर सार्थक बहस करने के लिए प्रस्तुत की गई विधा है।

SubQuestion No : 23

Q.23 'जीवन' का विलोम शब्द निम्न में से है:

- Ans A. आजीवन
 B. मृत
 C. मरण
 D. विनाश

Question ID : 630680183418

Status : Answered

Chosen Option : C

Comprehension:

निम्नलिखित गद्यांश पर आधारित दिए गए प्रश्नों के उत्तर दीजिए:

किसी समाचार-पत्र अथवा पत्रिका के व्यक्तित्व को उभारने में, उसमें प्रकाशित फीचर का बहुत योगदान रहता है। फीचर एक ऐसा रचनात्मक तथा कुछ-कुछ स्वानुभूतिमूलक लेख होता है, जिसका गठन किसी घटना, स्थिति अथवा जीवन के किसी पक्ष के संबंध में पाठक का मूलतः मनोरंजन करने एवं सूचना देने के उद्देश्य से किया गया हो। दृशात्मकता इसका आवश्यक गुण है, यानी कहने का ढंग ऐसा हो कि पाठक के सामने उस स्थान, परिवेश और घटना का चित्र उपस्थित हो जाए। फीचर स्थिति का विहंगावलोकन ही नहीं करता, वह प्रश्नों का उत्तर भी देता है और अज्ञात का ज्ञान भी कराता है। अच्छे फीचर के आधार हैं- जिज्ञासा, सच्चाई, चित्रात्मकता और स्पष्ट विश्लेषण। स्पष्ट विश्लेषण के अभाव में वह दुरूह, विचार-प्रधान निबंध बन जाएगा। चित्रात्मकता और रोचकता के अभाव में वह रिपोर्टाज बनकर रह जाएगा। सत्य को आकर्षक, जिज्ञासामूलक, ज्ञानवर्द्धक ढंग से सामने लाना फीचर का मुख्य उद्देश्य होता है, इसलिए उसमें तथ्यों के प्रभाव और महत्त्व पर विशेष बल दिया जाता है। फीचर का शीर्षक उसका प्राण है। यह 'ड्राइंगरूम' में बैठकर लिखने की विधा नहीं है, जीवन और जगत के संघर्षों से जुड़कर प्राप्त जीवनानुभवों को दृश्यमूलक शब्दों में बाँधने, जाँचने-परखने और समाज के साथ उन पर सार्थक बहस करने के लिए प्रस्तुत की गई विधा है।

SubQuestion No : 24

Q.24 फीचर के संदर्भ में असत्य है-

- Ans A. फीचर एक रचनात्मक तथा कुछ-कुछ स्वानुभूतिमूलक लेख होता है।
- B. फीचर स्थिति का विहंगावलोकन करने के साथ-साथ अज्ञात का ज्ञान भी कराता है।
- C. विचारों की प्रधानता फीचर के लिए आवश्यक गुण है।
- D. दृशात्मकता फीचर का आवश्यक गुण है।

Question ID : 630680183422

Status : Answered

Chosen Option : A

Comprehension:

निम्नलिखित गद्यांश पर आधारित दिए गए प्रश्नों के उत्तर दीजिए:

किसी समाचार-पत्र अथवा पत्रिका के व्यक्तित्व को उभारने में, उसमें प्रकाशित फीचर का बहुत योगदान रहता है। फीचर एक ऐसा रचनात्मक तथा कुछ-कुछ स्वानुभूतिमूलक लेख होता है, जिसका गठन किसी घटना, स्थिति अथवा जीवन के किसी पक्ष के संबंध में पाठक का मूलतः मनोरंजन करने एवं सूचना देने के उद्देश्य से किया गया हो। दृशात्मकता इसका आवश्यक गुण है, यानी कहने का ढंग ऐसा हो कि पाठक के सामने उस स्थान, परिवेश और घटना का चित्र उपस्थित हो जाए। फीचर स्थिति का विहंगावलोकन ही नहीं करता, वह प्रश्नों का उत्तर भी देता है और अज्ञात का ज्ञान भी कराता है। अच्छे फीचर के आधार हैं- जिज्ञासा, सच्चाई, चित्रात्मकता और स्पष्ट विश्लेषण। स्पष्ट विश्लेषण के अभाव में वह दुरूह, विचार-प्रधान निबंध बन जाएगा। चित्रात्मकता और रोचकता के अभाव में वह रिपोर्टाज बनकर रह जाएगा। सत्य को आकर्षक, जिज्ञासामूलक, ज्ञानवर्द्धक ढंग से सामने लाना फीचर का मुख्य उद्देश्य होता है, इसलिए उसमें तथ्यों के प्रभाव और महत्त्व पर विशेष बल दिया जाता है। फीचर का शीर्षक उसका प्राण है। यह 'ड्राइंगरूम' में बैठकर लिखने की विधा नहीं है, जीवन और जगत के संघर्षों से जुड़कर प्राप्त जीवनानुभवों को दृश्यमूलक शब्दों में बाँधने, जाँचने-परखने और समाज के साथ उन पर सार्थक बहस करने के लिए प्रस्तुत की गई विधा है।

SubQuestion No : 25

Q.25 फीचर का प्रमुख उद्देश्य होता है-

- Ans A. किसी घटना को मात्र रचनात्मकता के साथ उद्घाटित करना।
- B. किसी घटना को चित्र द्वारा प्रस्तुत करना।
- C. सत्य को आकर्षक, जिज्ञासामूलक, ज्ञानवर्द्धक ढंग से सामने लाना।
- D. किसी घटना की सूचना मात्र देना।

Question ID : 630680183420

Status : Answered

Chosen Option : C

Q.1 Select the correctly spelt word to fill in the blank.
Do you know any famous people who look _____ in their glasses.

- Ans A. glamorous
 B. glamorus
 C. glamrous
 D. glamoros

Question ID : 630680183428
Status : Not Answered
Chosen Option : --

Q.2 Select the most appropriate idiom that can substitute the underlined segment in the given sentence.

He sometimes tells lies, so people take his statements with a doubt.

- Ans A. in hot water
 B. grain of salt
 C. mince matter
 D. bear a mountain

Question ID : 630680183425
Status : Not Answered
Chosen Option : --

Q.3 Select the option that can be used as a one-word substitute for the underlined group of words.

Dolphins are fond of company, and large herds often follow ships.

- Ans A. Gregarious
 B. Inevitable
 C. Amphibian
 D. Infallible

INDIA

Question ID : 630680183434
Status : Not Answered
Chosen Option : --

Q.4 Select the option that rectifies the underlined grammatical error in the given sentence.

You are not looking too nice. Are you okay?

- Ans A. high
 B. well
 C. quick
 D. hard

Question ID : 630680183437
Status : Not Answered
Chosen Option : --

Q.5 Select the most appropriate option to fill in the blank.
Less than three-quarters of ____ hour later, she was home.

- Ans A. an
 B. No word required
 C. a
 D. the

Question ID : 630680183438
Status : Not Answered
Chosen Option : --

Q.6 Select the option that rectifies the underlined grammatical error in the given sentence.
He will have driven anywhere without first looking at a road map.

- Ans A. will drive not
 B. shall not be driving
 C. won't drive
 D. shall drive

Question ID : 630680183439
Status : Not Answered
Chosen Option : --

Q.7 Select the option that rectifies the underlined grammatical error in the given sentence.
She removed a bottle from the bag she will carry all the way from home.

- Ans A. had been carrying
 B. had carry
 C. shall be carry
 D. can carry

Question ID : 630680183440
Status : Not Answered
Chosen Option : --

Q.8 Select the option that can be used as a one-word substitute for the underlined group of words.

The story about the country boy managed to evoke a sentimental memory of the past.

- Ans A. Utopia
 B. Democracy
 C. Melophile
 D. Nostalgia

Question ID : 630680183433
Status : Not Answered
Chosen Option : --

Q.9 Select the option that rectifies the underlined grammatical error in the given sentence.
Junaid felt hungry. Then he has remembered the salad in the fridge.

- Ans A. remembered
 B. will remember
 C. had remember
 D. will be remembering

Question ID : 630680183442
Status : Not Answered
Chosen Option : --

Q.10 Select the most appropriate proverb for the underlined meaning.
You should not hit her because she hit you, her wrongful conduct is not a justification for acting in the same way.

- Ans A. great minds think alike
 B. out of sight out of mind
 C. a cat has nine lives
 D. two wrongs do not make a right

Question ID : 630680183426
Status : Not Answered
Chosen Option : --

Q.11 Select the most appropriate option to fill in the blank.
The weather is fine and the air is full of the _____ of strawberries.

- Ans A. scent
 B. send
 C. sent
 D. cent

INDIA

Question ID : 630680183423
Status : Not Answered
Chosen Option : --

Q.12 Parts of a paragraph are given below in jumbled order. Arrange the parts in the correct order to form a meaningful and coherent paragraph.

- A) Thus, in India, the people live chiefly on different kinds of grain, eggs, milk, or sometimes fish and meal.
B) the people of which it is made up, eat different kinds of food, partly according to the climate in which they live, partly according to the kind of food which their country produces.
C) In the Artic regions, where no grain and fruits are produced, the Eskimo and other races live almost entirely on flesh, especially fat.
D) the human race is spread all over the world, from the polar regions to the tropics.
E) in Europe the people eat more flesh and less grain.

- Ans A. BAEDC
 B. AECDB
 C. DBAEC
 D. CBDAE

Question ID : 630680183429
Status : Not Answered
Chosen Option : --

Q.13 Select the most appropriate option to fill in the blank.
The Rajput leader was a soldier full of hope and _____ from fear.

- Ans
- A. empty
 - B. sack
 - C. free
 - D. pity

Question ID : 630680183431
Status : Not Answered
Chosen Option : --

Q.14 Select the most appropriate option to fill in the blank.
No one dared to answer him in a/an _____ way.

- Ans
- A. impudent
 - B. perplexing
 - C. shivering
 - D. terrible

Question ID : 630680183432
Status : Not Answered
Chosen Option : --

Q.15 Select the most appropriate option to fill in the blank.
The court _____ him the guardian of the orphan child.

- Ans
- A. appointed
 - B. avoided
 - C. decided
 - D. described

INDIA

Question ID : 630680183430
Status : Not Answered
Chosen Option : --

Q.16 Select the most appropriate synonym of the given word.
Cloister

- Ans
- A. Surrounding
 - B. Exposure
 - C. Development
 - D. Convent

Question ID : 630680183424
Status : Not Answered
Chosen Option : --

Q.17 Select the option that rectifies the underlined grammatical error in the given sentence.
I will not miss a committee meeting since 1986, so I don't want to miss the one today

- Ans
- A. have missed
 - B. will miss
 - C. shall not miss
 - D. haven't missed

Question ID : 630680183441
Status : Not Answered
Chosen Option : --

Q.18 Select the correctly spelt word for the given context to fill in the blank.
The dining room was directly opposite the kitchen, _____ was also lavish.

- Ans
- A. wich
 - B. wick
 - C. witch
 - D. which

Question ID : 630680183427
Status : Not Answered
Chosen Option : --

Q.19 Select the option that can be used as a one-word substitute for the underlined group of words.

One way of demonstrating their support was to wear the party emblem of royalty.

- Ans
- A. Plagiarism
 - B. Regalia
 - C. Philogyny
 - D. Monarchy

Question ID : 630680183435
Status : Not Answered
Chosen Option : --

Q.20 Select the option that rectifies the underlined grammatical error in the given sentence.
The changing situation cannot be allowed to continue.

- Ans
- A. involved
 - B. concerned
 - C. responsible
 - D. present

Question ID : 630680183436
Status : Not Answered
Chosen Option : --

Comprehension:

Read the given passage and answer the questions that follow.

Hospitality is a virtue for which the natives of the east in general are highly and deservedly admired and the people of Egypt are well entitled to commendation on this account. A word which signifies literally "a person on a journey" (Musafir) is the term most commonly employed in this country in the sense of a visitor or a guest. There are very few persons here who would think of sitting down to a meal if there were a stranger in the house without inviting him to partake of it unless the latter were menial; in which case, he would be invited to eat with the servants. It would be considered a shameful violation of good manners if a Muslim abstained from ordering the table to be prepared at the usual time because a visitor happened to be present. Persons of the middle classes in this country, if living in a retired situation, sometimes take their supper before the door of their house, and invite every passenger of respectable appearance to eat with them. This is very commonly done among the lower order. In cities and last towns, claims on hospitality are unfrequent; as there are many wekalehs or Khans where strangers may obtain lodging and food is very easily procured but in the villages, travellers are often lodged and entertained by the shaykh or some other inhabitant and if the guest is a person of the middle or higher classes, or even not very poor he gives a present to his host's servants or to the host himself. In the desert, however, a present is seldom received from a guest. By Sunnah law, a traveller may claim entertainment from a person able to afford it to him, for three days.

SubQuestion No : 21

Q.21 What is the ritual followed by the people of the Middle East as they take supper?

- Ans
- A. Enlighten people with knowledge and wisdom
 - B. Respect the people who pass by and present them with gifts
 - C. Host servants
 - D. Sit before the door of their house to invite people to have food with them



Question ID : 630680183445

Status : Not Answered

Chosen Option : --

Comprehension:

Read the given passage and answer the questions that follow.

Hospitality is a virtue for which the natives of the east in general are highly and deservedly admired and the people of Egypt are well entitled to commendation on this account. A word which signifies literally "a person on a journey" (Musafir) is the term most commonly employed in this country in the sense of a visitor or a guest. There are very few persons here who would think of sitting down to a meal if there were a stranger in the house without inviting him to partake of it unless the latter were menial; in which case, he would be invited to eat with the servants. It would be considered a shameful violation of good manners if a Muslim abstained from ordering the table to be prepared at the usual time because a visitor happened to be present. Persons of the middle classes in this country, if living in a retired situation, sometimes take their supper before the door of their house, and invite every passenger of respectable appearance to eat with them. This is very commonly done among the lower order. In cities and last towns, claims on hospitality are unfrequent; as there are many wekalehs or Khans where strangers may obtain lodging and food is very easily procured but in the villages, travellers are often lodged and entertained by the shaykh or some other inhabitant and if the guest is a person of the middle or higher classes, or even not very poor he gives a present to his host's servants or to the host himself. In the desert, however, a present is seldom received from a guest. By Sunnah law, a traveller may claim entertainment from a person able to afford it to him, for three days.

SubQuestion No : 22

Q.22 What is a person on a journey in the Arab world termed?

- Ans
- A. A musafir
 - B. A traveller
 - C. An inhabitant
 - D. A stranger



Question ID : 630680183444

Status : Not Answered

Chosen Option : --

Comprehension:

Read the given passage and answer the questions that follow.

Hospitality is a virtue for which the natives of the east in general are highly and deservedly admired and the people of Egypt are well entitled to commendation on this account. A word which signifies literally "a person on a journey" (Musafir) is the term most commonly employed in this country in the sense of a visitor or a guest. There are very few persons here who would think of sitting down to a meal if there were a stranger in the house without inviting him to partake of it unless the latter were menial; in which case, he would be invited to eat with the servants. It would be considered a shameful violation of good manners if a Muslim abstained from ordering the table to be prepared at the usual time because a visitor happened to be present. Persons of the middle classes in this country, if living in a retired situation, sometimes take their supper before the door of their house, and invite every passenger of respectable appearance to eat with them. This is very commonly done among the lower order. In cities and last towns, claims on hospitality are unfrequent; as there are many wekalehs or Khans where strangers may obtain lodging and food is very easily procured but in the villages, travellers are often lodged and entertained by the shaykh or some other inhabitant and if the guest is a person of the middle or higher classes, or even not very poor he gives a present to his host's servants or to the host himself. In the desert, however, a present is seldom received from a guest. By Sunnah law, a traveller may claim entertainment from a person able to afford it to him, for three days.

SubQuestion No : 23

Q.23 Identify the central theme of the passage.

- Ans A. Muslim law
 B. Hospitality – a virtue
 C. Nature of the Arab world
 D. Respect for passengers



Question ID : 630680183446

Status : Not Answered

Chosen Option : --

INDIA

Comprehension:

Read the given passage and answer the questions that follow.


Hospitality is a virtue for which the natives of the east in general are highly and deservedly admired and the people of Egypt are well entitled to commendation on this account. A word which signifies literally "a person on a journey" (Musafir) is the term most commonly employed in this country in the sense of a visitor or a guest. There are very few persons here who would think of sitting down to a meal if there were a stranger in the house without inviting him to partake of it unless the latter were menial; in which case, he would be invited to eat with the servants. It would be considered a shameful violation of good manners if a Muslim abstained from ordering the table to be prepared at the usual time because a visitor happened to be present. Persons of the middle classes in this country, if living in a retired situation, sometimes take their supper before the door of their house, and invite every passenger of respectable appearance to eat with them. This is very commonly done among the lower order. In cities and last towns, claims on hospitality are unfrequent; as there are many wekalehs or Khans where strangers may obtain lodging and food is very easily procured but in the villages, travellers are often lodged and entertained by the shaykh or some other inhabitant and if the guest is a person of the middle or higher classes, or even not very poor he gives a present to his host's servants or to the host himself. In the desert, however, a present is seldom received from a guest. By Sunnah law, a traveller may claim entertainment from a person able to afford it to him, for three days.

SubQuestion No : 24

Q.24 Select the most appropriate synonym of the underlined word.

It would be considered a shameful violation of good manners if a Muslim abstained from ordering the table to be prepared at the usual time because a visitor happened to be present.

- Ans
- A. Annexed
 - B. Assumed
 - C. Refrained
 - D. Controlled



Question ID : 630680183447
Status : Not Answered
Chosen Option : --

Comprehension:

Read the given passage and answer the questions that follow.

Hospitality is a virtue for which the natives of the east in general are highly and deservedly admired and the people of Egypt are well entitled to commendation on this account. A word which signifies literally "a person on a journey" (Musafir) is the term most commonly employed in this country in the sense of a visitor or a guest. There are very few persons here who would think of sitting down to a meal if there were a stranger in the house without inviting him to partake of it unless the latter were menial; in which case, he would be invited to eat with the servants. It would be considered a shameful violation of good manners if a Muslim abstained from ordering the table to be prepared at the usual time because a visitor happened to be present. Persons of the middle classes in this country, if living in a retired situation, sometimes take their supper before the door of their house, and invite every passenger of respectable appearance to eat with them. This is very commonly done among the lower order. In cities and last towns, claims on hospitality are unfrequent; as there are many wekalehs or Khans where strangers may obtain lodging and food is very easily procured but in the villages, travellers are often lodged and entertained by the shaykh or some other inhabitant and if the guest is a person of the middle or higher classes, or even not very poor he gives a present to his host's servants or to the host himself. In the desert, however, a present is seldom received from a guest. By Sunnah law, a traveller may claim entertainment from a person able to afford it to him, for three days.

SubQuestion No : 25

Q.25 Identify the tone of the passage from the following options.

- Ans A. Humanistic
 B. Humorous
 C. Romantic
 D. Introspective

Question ID : 630680183448

Status : Not Answered

Chosen Option : --

Section : General Aptitude

Q.1 भारत की सर्वश्रेष्ठ वैश्विक प्रतिस्पर्धी विद्युत कंपनी के लिए 'इनर्शिया अवार्ड्स 2022 (Enertia Awards 2022)' पुरस्कार से निम्नलिखित में से किसे सम्मानित किया गया?

- Ans A. अदानी सोलर (Adani Solar)
 B. एनएचपीसी (NHPC)
 C. पीएफसी (PFC)
 D. एनटीपीसी (NTPC)

Question ID : 630680183464

Status : Answered

Chosen Option : A

Q.2 जनवरी 2023 में पर्यावरण मंत्रालय द्वारा संरक्षित पौधों की सूची में 'नीलकुरिंजी' को शामिल किया गया था। यह भारत के किस भौगोलिक क्षेत्र से संबंधित है?

- Ans A. पश्चिमी घाट
 B. पूर्वी घाट
 C. शिवालिक हिमालय
 D. पूर्वोत्तर भारत

Question ID : 630680183466

Status : Answered

Chosen Option : A

Q.3 निम्नलिखित में से किस मंत्रालय ने 10 से 16 जनवरी तक 'स्टार्टअप इंडिया नवाचार सप्ताह 2023' का आयोजन किया?

- Ans A. वाणिज्य और उद्योग मंत्रालय
 B. रक्षा मंत्रालय
 C. वित्त मंत्रालय
 D. संचार और आईटी मंत्रालय

Question ID : 630680183452
Status : Answered
Chosen Option : A

Q.4 निम्नलिखित में से बौद्ध धर्म का प्रसिद्ध पवित्र स्थान कौन-सा है, जहाँ बुद्ध ने अपना पहला उपदेश दिया था?

- Ans A. सारनाथ
 B. बोधगया
 C. लुंबिनी
 D. कुशीनगर

Question ID : 630680183458
Status : Answered
Chosen Option : A

Q.5 जनवरी 2023 तक प्राप्त जानकारी के आधार पर, एनबीएस (NBS) डेटा के अनुसार, निम्नलिखित में से किस देश की जनसंख्या में 1961 के बाद पहली बार भारी गिरावट दर्ज की गई है?

- Ans A. अमेरिका
 B. चीन
 C. भारत
 D. ब्राज़ील

INDIA

Question ID : 630680183467
Status : Answered
Chosen Option : C

Q.6 दिल्ली में स्थित 'मोठ की मस्जिद' का निर्माण इनमें से किस शासक के शासनकाल में हुआ था?

- Ans A. कुतुबुद्दीन ऐबक
 B. खिज़्र ख़ाँ
 C. बहलोल लोदी
 D. सिकंदर लोदी

Question ID : 630680183455
Status : Not Answered
Chosen Option : --

Q.7 जनवरी 2023 में, एमएसएमई (MSME) क्षेत्रों के ऋणों का विस्तार करने के लिए वीएफएस कैपिटल (VFS Capital) के साथ इनमें से किसने साझेदारी की?

- Ans A. एसआईडीबीआई (SIDBI)
 B. नाबार्ड (NABARD)
 C. आरबीआई (RBI)
 D. एनटीपीसी (NTPC)

Question ID : 630680183462
Status : Answered
Chosen Option : A

Q.8 दिसंबर 2022 में, डॉ. महिमा स्वामी को यूरोपीय आणविक जीवविज्ञान संगठन (EMBO) के युवा अन्वेषक नेटवर्क में शामिल किया गया था। वह किस शहर से है?

- Ans A. बेंगलुरु
 B. मुंबई
 C. चंडीगढ़
 D. हैदराबाद

Question ID : 630680183449
Status : Answered
Chosen Option : A

Q.9 अगस्त 2022 में, निम्नलिखित में से किस राज्य ने विद्यालय स्तर पर सामाजिक और भावनात्मक शिक्षा प्रदान करने के लिए 'सहर्ष' योजना शुरू की?

- Ans A. त्रिपुरा
 B. असम
 C. सिक्किम
 D. ओडिशा

Question ID : 630680183451
Status : Answered
Chosen Option : A

Q.10 खेलो इंडिया यूथ गेम्स 2023 के किस संस्करण का आयोजन 30 जनवरी 2023 से 11 फरवरी 2023 तक मध्य प्रदेश राज्य में किया जाएगा?

- Ans A. 7वें
 B. 6ठे
 C. 5वें
 D. 8वें

Question ID : 630680183453
Status : Answered
Chosen Option : A

Q.11 हमारे स्वतंत्रता संग्राम के दौरान, स्वतंत्रता आंदोलन के नेताओं ने मांग की थी, कि ब्रिटिश शासक लोगों के अधिकारों का सम्मान करें। निम्नलिखित में से किस समिति ने बहुत पहले 1928 में अधिकार विधेयक की मांग की थी?

- Ans
- A. व्हिटली आयोग
 - B. मुडीमेन समिति
 - C. मोतीलाल नेहरू समिति
 - D. बटलर आयोग

Question ID : 630680183471
Status : Not Answered
Chosen Option : --

Q.12 निम्नलिखित में से कौन सा कथन गलत है?

- Ans
- A. ब्रोमीन, 6 संयोजकता वाले हैलोजन परिवार से संबंधित है।
 - B. एल्युमीनियम, 3 संयोजकता वाले समूह 13 से संबंधित है।
 - C. सल्फर, 2 संयोजकता वाले समूह 16 के तत्वों से संबंधित है।
 - D. सिलिकॉन, 4 संयोजकता वाले समूह 14 का तत्व है।

Question ID : 630680183470
Status : Answered
Chosen Option : A

Q.13 आरबीआई (RBI) के अनुसार, केवाईसी (KYC) पर मास्टर दिशा-निर्देश की धारा 18 में किए गए उल्लेख के अनुसार, बैंक शाखा में जाकर या दूरवर्ती वी-सीआईपी (V-CIP (जहां भी इसे बैंकों द्वारा सक्षम किया गया है)) के माध्यम से नई केवाईसी प्रक्रिया की जा सकती है। वी-सीआईपी (V-CIP) क्या है?

- Ans
- A. वर्चुअल-बायस्ड कस्टमर आईडेंटिफिकेशन प्रोसेस (Virtual-biased Customer Identification Process)
 - B. वीडियो-बेस्ड कस्टमर आईडेंटिफिकेशन प्रोसेस (Video-based Customer Identification Process)
 - C. वर्चुअल-बायस्ड कन्ज्यूमर आईडेंटिफिकेशन प्रोसेस (Virtual-biased Consumer Identification Process)
 - D. वीडियो-बेस्ड कन्ज्यूमर आईडेंटिफिकेशन प्रोसेस (Video-based Consumer Identification Process)

Question ID : 630680183463
Status : Not Answered
Chosen Option : --

Q.14 दिसम्बर 1885 में, भारतीय राष्ट्रीय कांग्रेस की स्थापना के समय देश भर से कितने प्रतिनिधियों ने बॉम्बे में भेंट की थी?

- Ans
- A. 71
 - B. 70
 - C. 73
 - D. 72

Question ID : 630680183456
Status : Answered
Chosen Option : D

Q.15 दिसंबर 2022 में, भारतीय कृषि अनुसंधान परिषद ने इनमें से किस संस्थान के सहयोग से भारत का पहला H9N2 वैक्सीन विकसित किया?

- Ans A. राष्ट्रीय पशु पोषण और शरीर क्रिया विज्ञान संस्थान
 B. राष्ट्रीय उच्च सुरक्षा पशु रोग संस्थान
 C. केंद्रीय शुष्क क्षेत्र अनुसंधान संस्थान
 D. केंद्रीय पक्षी अनुसंधान संस्थान

Question ID : 630680183450
Status : Answered
Chosen Option : A

Q.16 निम्नलिखित में से कौन सा युग्म गलत है?

- Ans A. भारत के प्रथम मुख्य न्यायाधीश - न्यायमूर्ति हरिलाल जेकिसुनदास कनिया
 B. भारत के वर्तमान मुख्य न्यायाधीश - धनंजय वाई. चंद्रचूड़
 C. सबसे लंबे कार्यकाल वाले मुख्य न्यायाधीश - जॉन मार्शल
 D. भारत की पहली एससी (SC) महिला मुख्य न्यायाधीश - पी.एन. भगवती

Question ID : 630680183473
Status : Answered
Chosen Option : A

Q.17 भोपा, चांग और घिंडर इनमें से किस राज्य के लोक संगीत हैं?

- Ans A. हरियाणा
 B. आंध्र प्रदेश
 C. राजस्थान
 D. तमिलनाडु

INDIA

Question ID : 630680183461
Status : Answered
Chosen Option : A

Q.18 निम्नलिखित में से किस तत्व (elements) में 10 इलेक्ट्रॉन नहीं होते हैं?

- Ans A. O^{2+}
 B. F^-
 C. Mg^{2+}
 D. Na^+

Question ID : 630680183469
Status : Answered
Chosen Option : B

Q.19 1290-1320 के दौरान निम्नलिखित में से किस राजवंश ने शासन किया था?

- Ans A. सैय्यद राजवंश
 B. लोदी राजवंश
 C. खिलजी राजवंश
 D. तुगलक राजवंश

Question ID : 630680183454
Status : Answered
Chosen Option : C

Q.20 _____ एक राष्ट्रवादी थे जो उस कट्टरपंथी समूह के प्रमुख सदस्यों में से एक थे जो याचिकाओं की राजनीति के आलोचक थे। वे आर्य समाज के सक्रिय सदस्य भी थे।

- Ans A. लाला लाजपत राय
 B. महात्मा गांधी
 C. बाल गंगाधर तिलक
 D. बिपिन चंद्र पाल

Question ID : 630680183457
Status : Not Answered
Chosen Option : --

Q.21 एशिया की सबसे बड़ी खारे पानी की झील चिल्का झील किस राज्य में मौजूद है?

- Ans A. केरल
 B. ओड़िशा
 C. पंजाब
 D. राजस्थान



INDIA

Question ID : 630680183465
Status : Answered
Chosen Option : B

Q.22 निम्नलिखित में से किस नदी पर भारत की कोलकाता मेट्रो रेल (KMRC), दिसंबर 2023 तक देश की पहली अंडरवाटर मेट्रो सेवा के विकास को पूर्ण करने के लिए तैयार हो जाएगी?

- Ans A. दामोदर
 B. हल्दी
 C. हुगली
 D. तीस्ता

Question ID : 630680183468
Status : Answered
Chosen Option : C

Q.23 निम्नलिखित में से कौन सा गीत प्रेम, अलगाव और पुनर्मिलन की विषय-वस्तु से संबंधित है?

- Ans A. बिदेसिया
 B. बिरहा
 C. सांझा
 D. बियानाम

Question ID : 630680183460

Status : Not Answered

Chosen Option : --

Q.24 भारत के प्रथम राष्ट्रपति डॉ. राजेंद्र प्रसाद का कार्यकाल क्या था?

- Ans A. 26 जनवरी 1950 से 13 मई 1956 तक
 B. 26 जनवरी 1950 से 13 मई 1962 तक
 C. 26 जनवरी 1950 से 13 मई 1958 तक
 D. 26 जनवरी 1950 से 13 मई 1960 तक

Question ID : 630680183472

Status : Answered

Chosen Option : D

Q.25 'तेरहताली', नृत्य की एक धार्मिक शैली है, जो कामदा जनजाति द्वारा किया जाता है। नृत्य की यह शैली निम्नलिखित में से किस राज्य से संबंधित है?

- Ans A. राजस्थान
 B. हिमाचल प्रदेश
 C. कर्नाटक
 D. हरियाणा

INDIA

Question ID : 630680183459

Status : Answered

Chosen Option : B

Section : General Intelligence

Q.1 दिए गए कथनों और निष्कर्षों को ध्यानपूर्वक पढ़ें। यह मानते हुए कि कथनों में दी गई जानकारी सत्य है, भले ही यह सामान्य रूप से ज्ञात तथ्यों से भिन्न प्रतीत होती हो, तय करें कि दिए गए निष्कर्षों में से कौन सा/से निष्कर्ष कथनों का तार्किक रूप से अनुसरण करता/ते है/हैं।

कथन:

- A. सभी हरे, नीले हैं।
- B. सभी लाल, हरे हैं।

निष्कर्ष:

- I. सभी नीले, लाल हैं।
- II. सभी हरे, लाल हैं।
- III. सभी नीले, हरे हैं।

- Ans
- A. केवल निष्कर्ष II अनुसरण करता है।
 - B. केवल निष्कर्ष I अनुसरण करता है।
 - C. I, II और III में से कोई भी निष्कर्ष अनुसरण नहीं करता है।
 - D. केवल निष्कर्ष III अनुसरण करता है।

Question ID : 630680183478

Status : Answered

Chosen Option : A

Q.2 छः मित्र K, L, M, N, O, और P एक गोल मेज के परितः बैठे हैं। वे सभी मेज के केंद्र से बाहर की ओर अभिमुख हैं। K, L और M के ठीक बीच में बैठा है। N, L के बाएं से दूसरे स्थान पर बैठा है। P, N के ठीक दाएं बैठा है। O, M के ठीक दाएं और P के बाएं से दूसरे स्थान पर बैठा है। O के ठीक बाएं कौन बैठा है?

- Ans
- A. P
 - B. N
 - C. M
 - D. K

Question ID : 630680183474

Status : Answered

Chosen Option : C

Q.3 छह व्यक्ति A, B, C, D, E और F एक सीधी रेखा में उत्तर की ओर अभिमुख होकर बैठे हैं। F और D के बीच चार व्यक्ति बैठे हैं। B, D के ठीक दाएं बैठा है। A और B के बीच दो व्यक्ति बैठे हैं। C, E के ठीक दाएं बैठा है। E के ठीक बाएं कौन बैठा है?

- Ans
- A. B
 - B. C
 - C. D
 - D. A

Question ID : 630680183475

Status : Answered

Chosen Option : A

Q.4 छ: व्यक्तियों U, V, W, X, Y और Z में:

- a. U केवल चार व्यक्तियों से छोटा है।
- b. Y, U से छोटा है जो X से छोटा है।
- c. V केवल दो व्यक्तियों से छोटा है।
- d. W, X से लंबा है लेकिन वह सबसे लंबा नहीं है।
- e. V, Y से लंबा है लेकिन W से छोटा है।

उपरोक्त जानकारी के आधार पर, निम्नलिखित में से कौन से निष्कर्ष सही हैं?
निष्कर्ष:

- I. Z, X से छोटा है
- II. X, W से छोटा है
- III. Y, U से लंबा है

- Ans
- A. केवल निष्कर्ष III सही है।
 - B. केवल निष्कर्ष I सही है।
 - C. निष्कर्ष I, II और III में से कोई भी सही नहीं है।
 - D. केवल निष्कर्ष II सही है।

Question ID : 630680183479

Status : Answered

Chosen Option : D

Q.5 चार अक्षर-समूह युग्म दिए गए हैं, जिनमें से तीन किसी प्रकार से एक समान हैं और एक असंगत है। उसका चयन करें जो असंगत है।

- Ans
- A. OEMHJ : MJHOE
 - B. NSTER : TSNRE
 - C. MDGER : RMGDE
 - D. MAFEY : YMFEA

Question ID : 630680183490

Status : Not Answered

Chosen Option : --

Q.6 निम्नलिखित समीकरण को संतुलित करने के लिए किन दो संख्याओं को आपस में बदला जाना चाहिए?

$$84 \div 6 - 11 \times 2 + 36 \div 4 = 5$$

- Ans
- A. 6 और 4
 - B. 11 और 4
 - C. 6 और 11
 - D. 11 और 36

Question ID : 630680183497

Status : Answered

Chosen Option : A

Q.7 एक कूट भाषा में वर्णमाला के अक्षरों को निम्नलिखित तरीके से कूटबद्ध किया जाता है:

1. सभी व्यंजनों को अंग्रेजी वर्णमाला में पिछले व्यंजनों के साथ कूटबद्ध किया जाता है।

2. सभी स्वरों को अंग्रेजी वर्णमाला में अगले स्वरों के साथ कूटबद्ध किया जाता है।

हालांकि, यदि

a. दो व्यंजनों के बीच एक स्वर आता है, तो उस स्वर को अंग्रेजी वर्णमाला के पिछले अक्षर के साथ कूटबद्ध किया जाएगा।

B. दो स्वरों के बीच एक व्यंजन आता है, तो उस व्यंजन को अंग्रेजी वर्णमाला में अगले व्यंजन के साथ कूटबद्ध किया जाएगा।

इस भाषा में "MEETINGS" को किस रूप में कूटबद्ध किया जाएगा?

Ans A. LIISHMFR

B. LIISOMFR

C. LAASHMFR

D. LIISEMFR

Question ID : 630680183485

Status : Not Answered

Chosen Option : --

Q.8 दिए गए विकल्पों में से उस संख्या का चयन करें जो निम्नलिखित श्रृंखला में प्रश्नवाचक चिह्न (?) को प्रतिस्थापित कर सकती है।

4, 8, 6, 12, 10, 20, 18, 36, ?

Ans A. 30

B. 38

C. 32

D. 34

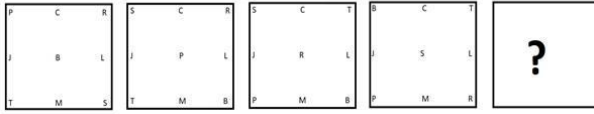


Question ID : 630680183495

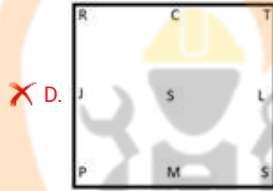
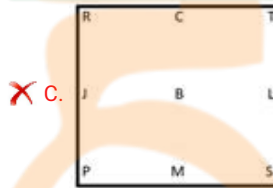
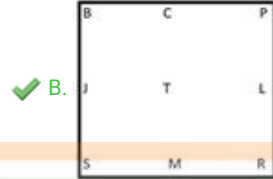
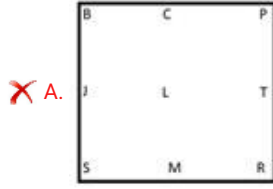
Status : Answered

Chosen Option : D

Q.9 दिए गए विकल्पों में से उस आकृति का चयन करें जो नीचे दी गई श्रृंखला में प्रश्नवाचक चिह्न (?) को प्रतिस्थापित कर सकती है।



Ans



Question ID : 630680183492

Status : Answered

Chosen Option : B

Q.10 कुछ विद्यार्थी एक परीक्षा में सम्मिलित हुए। पारुल ने परीक्षा में उच्चतम स्थान प्राप्त किया, जबकि उनकी बहन शोम्या नीचे से 11वें रैंक पर रहीं। शोम्या की रैंक के बाद तन्मय की रैंक चौथी थी। यदि तन्मय की रैंक पारुल और अंतिम रैंक प्राप्त करने वाले विद्यार्थी के ठीक बीच में है, तो परीक्षा में कितने विद्यार्थी सम्मिलित हुए?

Ans A. 12

B. 14

C. 11

D. 13

Question ID : 630680183476

Status : Answered

Chosen Option : D

Q.11 चार अक्षर-समूह युग्म दिए गए हैं, जिनमें से तीन किसी प्रकार से एक समान हैं और एक असंगत है। उसका चयन करें जो असंगत है।

- Ans A. GLQV : TOJE
 B. DINS : WRMH
 C. LRWE : OIDV
 D. NSXC : MHCX

Question ID : 630680183491
Status : Answered
Chosen Option : B

Q.12 निम्नलिखित चार अंकों की संख्याओं पर विचार करें।

3857, 7364, 8367, 7846, 1946

यदि सभी संख्याओं के पहले और तीसरे अंक को परस्पर बदल दिया जाए और फिर परिणामी संख्याओं को आरोही क्रम में लिखा जाए, तो किस संख्या का बदला हुआ रूप बीच में आएगा?

- Ans A. 8367
 B. 3857
 C. 7364
 D. 1946

Question ID : 630680183484
Status : Answered
Chosen Option : B

Q.13 एक ही पासे की तीन अलग-अलग स्थितियां दिखाई गई हैं। उस संख्या का चयन करें जो संख्या 5 वाले फलक के विपरीत फलक पर होगी।



- Ans A. 2
 B. 3
 C. 4
 D. 6

Question ID : 630680183494
Status : Answered
Chosen Option : B

Q.14 यदि,

A + B का अर्थ है कि 'A, B की मां है',
A - B का अर्थ है कि 'A, B के पिता हैं',
A × B का अर्थ है कि 'A, B का भाई है',
A ÷ B का अर्थ है कि 'A, B की पुत्री है'।
तो, निम्नलिखित व्यंजक में H, T से किस रूप में संबंधित है?
 $H \times S \div C - P \div D + R + T$

- Ans
- A. चाचा
 - B. दादा
 - C. नाना
 - D. मामा

Question ID : 630680183487

Status : Answered

Chosen Option : D

Q.15 उस संख्या की पहचान करें जो निम्नलिखित श्रृंखला से संबंधित नहीं है।

3, 4, 9, 18, 38, 74, 150, 298, 598

- Ans
- A. 4
 - B. 150
 - C. 38
 - D. 9

Question ID : 630680183496

Status : Not Answered

Chosen Option : --

Q.16 चार शब्द दिए गए हैं, जिनमें से तीन किसी प्रकार से एक समान हैं और एक असंगत है। उसका चयन करें जो असंगत है।

- Ans
- A. TENET
 - B. LOCAL
 - C. REFER
 - D. CIVIC

Question ID : 630680183489

Status : Answered

Chosen Option : B

Q.17 A, B का पुत्र और S का भाई है। G, L का पुत्र और N का भाई है। R, A के पिता और L के ससुर हैं। N, S की पुत्री है। T, M का पुत्र है। B, S की मां है। R का एक पुत्र और एक पुत्री है। A और M विवाहित युगल हैं। R, T से किस रूप में संबंधित है?

- Ans
- A. नाना
 - B. नानी
 - C. दादी
 - D. दादा

Question ID : 630680183488

Status : Answered

Chosen Option : D

Q.18 ललिता 400 m दक्षिण की ओर चली। फिर वह उत्तर-पश्चिम की ओर मुड़ी और 500 m आगे चली। फिर वह दक्षिण की ओर मुड़ी और आगे 400 m चली। अंत में, वह अपने बाईं ओर मुड़ी और 300 m चली। अब वह अपने शुरुआती बिंदु से किस दिशा में है?

- Ans
- A. पूर्व
 - B. पश्चिम
 - C. दक्षिण
 - D. उत्तर

Question ID : 630680183486

Status : Answered

Chosen Option : C

Q.19 यदि निम्नलिखित श्रृंखला की सभी संख्याओं को पहले आरोही क्रम में लिखा जाए और फिर श्रृंखला में सभी संख्याओं को अवरोही क्रम में लिखा जाए, तो कौन सी संख्या दाईं ओर से 21वीं संख्या के बाईं ओर 15वें स्थान पर आएगी?
(बाएं) 1 3 4 6 7 4 4 5 6 7 7 7 5 4 4 5 6 7 4 5 3 4 (दाएं)

- Ans
- A. 5
 - B. 6
 - C. 4
 - D. 7

Question ID : 630680183483

Status : Answered

Chosen Option : C

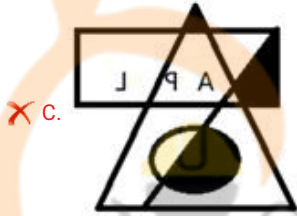
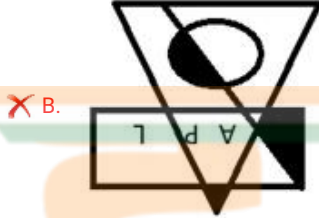
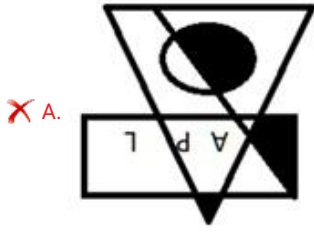


INDIA

Q.20 जब दर्पण को दाईं ओर रखा जाता है, तो दी गई आकृति की बनने वाली सही दर्पण छवि का चयन करें।



Ans



Question ID : 630680183493

Status : Answered

Chosen Option : D

Q.21 यदि

'x' का अर्थ जोड़ना है,

'÷' का अर्थ घटाना है,

'+' का अर्थ गुणा करना है, और

'-' का अर्थ विभाजन करना है,

तो निम्नलिखित समीकरण में '?' का मान क्या है?

$$11 \div 9 \times 13 + 8 - 2 = ?$$

Ans ✗ A. 64

✗ B. 22

✗ C. 25

✓ D. 54

Question ID : 630680183498

Status : Answered

Chosen Option : D

Q.22 अक्षरों के उस संयोजन का चयन करें जो दी गई श्रृंखला के रिक्त स्थानों में क्रमिक रूप से रखे जाने पर श्रृंखला को पूरा करेगा।

--YXZXY--ZXYY_ZXY---

- Ans
- A. XZYXXYXZ
 - B. XYYXXYXZ
 - C. ZYYXXYXZ
 - D. XYYZXYYXZ

Question ID : 630680183480

Status : Answered

Chosen Option : B

Q.23 दी गई अक्षर श्रृंखला का संदर्भ लें और नीचे दिए गए प्रश्न का उत्तर दें।
(बाएं) NDHJRUENEYSRDBMGATATFKHYUGUFHBDTIRESBDCVDRT (दाएं)
ऐसे कितने व्यंजन हैं जिनके ठीक बाद में और ठीक पहले समान स्वर आता है?

- Ans
- A. 2
 - B. 0
 - C. 1
 - D. 3

Question ID : 630680183482

Status : Answered

Chosen Option : D

Q.24 शब्द 'NEWSPAPER' में ऐसे कितने अक्षर युग्म हैं (केवल आगे के क्रम में) जहाँ शब्द में उनके बीच अक्षरों की संख्या, अंग्रेजी वर्णमाला में उनके बीच अक्षरों की संख्या के समान है?

- Ans
- A. 0
 - B. 3
 - C. 2
 - D. 1

Question ID : 630680183481

Status : Answered

Chosen Option : D

Q.25 सात तल वाली एक इमारत के प्रत्येक तल पर सात कार्यालय स्थित हैं। इमारत की सबसे निचले तल की संख्या एक है और सबसे ऊपर वाले तल की संख्या सात है। कंपनी के चार कार्यालय कंपनी E और कंपनी C के तलों के बीच हैं। कंपनी F का कार्यालय कंपनी E के कार्यालय के ठीक ऊपर स्थित है। कंपनी D का कार्यालय कंपनी A और कंपनी B के कार्यालयों के ठीक बीच में स्थित है। कंपनी G का कार्यालय एक विषम संख्या वाले तल पर स्थित है लेकिन यह तल संख्या तीन पर नहीं है। कंपनी C का कार्यालय कंपनी B के कार्यालय के ठीक नीचे स्थित है। इमारत के मध्य तल पर किस कंपनी का कार्यालय है?

- Ans
- A. G
 - B. D
 - C. B
 - D. A

Question ID : 630680183477

Status : Not Answered

Chosen Option : --

Q.1 6 cm x 4 cm x 3 cm आयाम का एक घनाभ है। न्यूनतम ऐसे घनाभों को एक घन बनाने के लिए व्यवस्थित किया जाता है। घन का आयतन (cc में) ज्ञात करें।

- Ans A. 1728
 B. 216
 C. 1000
 D. 512

Question ID : 630680183522
Status : Answered
Chosen Option : A

Q.2 एक संख्या में 15% की वृद्धि करने पर वह 276 हो जाती है। वह संख्या ज्ञात करें।

- Ans A. 228
 B. 240
 C. 220
 D. 234

Question ID : 630680183505
Status : Answered
Chosen Option : B

Q.3 मान ज्ञात करें।

$$\sqrt{25 + \sqrt{108 + \sqrt{154 + \sqrt{225}}}}$$

- Ans A. 5
 B. 4
 C. 8
 D. 6

Question ID : 630680183499
Status : Answered
Chosen Option : D

Q.4 $[7(8^{\frac{1}{3}} + 125^{\frac{1}{3}})^3]^{\frac{1}{4}}$ का मान ज्ञात करें।

- Ans A. 25
 B. 7
 C. 49
 D. 5

Question ID : 630680183500
Status : Answered
Chosen Option : B

Q.5 एक कक्षा में 21 विद्यार्थियों की औसत आयु 14 वर्ष है। यदि प्रधानाचार्य और उनके शिक्षक, जो प्रधानाचार्य से 5 वर्ष छोटे हैं, की आयु जोड़ दी जाए, तो औसत 17 वर्ष हो जाती है। प्रधानाचार्य की आयु (वर्षों में) ज्ञात करें।

- Ans
- A. 46
 - B. 53
 - C. 48
 - D. 51

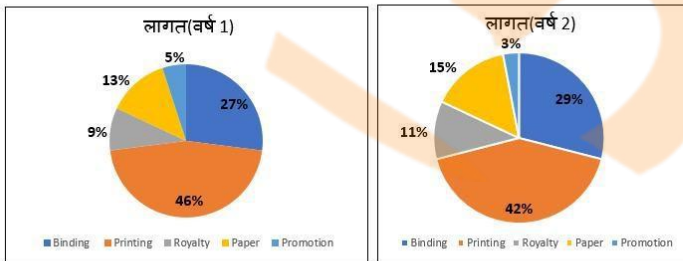
Question ID : 630680183502
Status : Not Answered
Chosen Option : --

Q.6 $\frac{\sin^2 45^\circ + \cos^2 45^\circ}{\tan^2 60^\circ} + \left[\frac{\sin 20^\circ}{\cos 70^\circ} \right]^2 - \cos^2 60^\circ$ का मान ज्ञात करें।

- Ans
- A. $1\frac{1}{12}$
 - B. $1\frac{2}{3}$
 - C. $1\frac{1}{4}$
 - D. $1\frac{5}{6}$

Question ID : 630680183523
Status : Not Answered
Chosen Option : --

Q.7 नीचे दिए गए पाई चार्ट दो वर्षों के लिए प्रकाशन की लागत दर्शाते हैं। वर्ष 1 में मुद्रण की लागत ₹12,713 के बराबर थी, और वर्ष 2 में जिल्दसाजी की लागत ₹5,639 थी। यदि वर्ष 1 में लाभ 10% और वर्ष 2 में 20% था, तो दोनों वर्षों के बीच अर्जित लाभ में कितना अंतर था? (निकटतम ₹ में पूर्णांकित)



Binding : जिल्दसाजी, Printing : मुद्रण, Royalty : स्वत्व शुल्क, Paper : कागज़, Promotion : प्रचार,

- Ans
- A. ₹1,125
 - B. ₹1,703
 - C. ₹1,346
 - D. ₹1,597

Question ID : 630680183519
Status : Not Answered
Chosen Option : --

Q.8 150 प्रश्नों की एक परीक्षा में, प्रत्येक सही उत्तर के लिए 4 अंक, प्रत्येक गलत उत्तर के लिए 2 नेगेटिव अंक और किसी भी अनुत्तरित प्रश्न के लिए 1 नेगेटिव अंक दिए जाते हैं। राहुल $\frac{1}{15}$ प्रश्नों को हल करने में असमर्थ रहता है जबकि उसके प्रत्येक 2 प्रश्नों के गलत होने पर 5 प्रश्न सही होते हैं। राहुल द्वारा प्राप्त अंक ज्ञात करें।

- Ans A. 310
 B. 300
 C. 280
 D. 320

Question ID : 630680183521
Status : Answered
Chosen Option : C

Q.9 Z अपनी आय का $66\frac{2}{3}\%$ खर्च करती है। यदि उसकी आय में x% की वृद्धि होती है और व्यय में 10% की वृद्धि होती है, तो उसकी बचत में 25% की वृद्धि होती है। x का मूल्य ज्ञात करें।

- Ans A. 15
 B. 12
 C. 10
 D. 14

Question ID : 630680183506
Status : Answered
Chosen Option : A

Q.10 A, B और C एक निश्चित कार्य को क्रमशः 30 दिनों, 45 दिनों और 60 दिनों में पूरा कर सकते हैं। यदि A पहले दिन अकेले कार्य करता है और A, B और C दूसरे दिन एक साथ काम करते हैं और इसी तरह आगे भी कार्य करते हैं, तो कार्य कितने दिनों में पूरा होगा?

- Ans A. $19\frac{3}{13}$
 B. $20\frac{7}{9}$
 C. $19\frac{2}{19}$
 D. $20\frac{4}{15}$

Question ID : 630680183516
Status : Answered
Chosen Option : A

Q.11 रामू और सोमू एक साथ मिलकर पूरे कार्य का $\frac{5}{7}$ भाग 30 दिनों में पूरा कर सकते हैं, जबकि रामू अकेले कार्य के $\frac{3}{4}$ भाग को $47\frac{1}{4}$ दिनों में पूरा कर सकता है। जात करें कि सोमू को अकेले कार्य का $\frac{1}{2}$ भाग पूरा करने में कितने दिन लगेंगे?

- Ans A. 63
 B. 94
 C. 56
 D. 106

Question ID : 630680183515

Status : Answered

Chosen Option : A

Q.12 एक व्यक्ति स्थान A से स्थान B तक x km/h की चाल से यात्रा करता है और अपनी चाल को 20% बढ़ाकर A पर वापस लौटता है। संपूर्ण यात्रा में उसकी औसत चाल $163\frac{7}{11}$ km/h है। $1.4x$ km/h की चाल से 294 km की यात्रा करने में उसे कितना समय (hrs में) लगेगा?

- Ans A. $1\frac{3}{4}$
 B. $1\frac{1}{3}$
 C. $1\frac{2}{9}$
 D. $1\frac{2}{5}$

Question ID : 630680183503

Status : Answered

Chosen Option : D

Q.13 दो संख्याओं का लघुत्तम समापवर्त्य (LCM) उनके महत्तम समापवर्तक (HCF) का 12 गुना है। यदि LCM और HCF का योग 169 है और संख्याओं का योग 104 है, तो संख्याओं के बीच का अंतर ज्ञात करें।

- Ans A. 72
 B. 58
 C. 52
 D. 66

Question ID : 630680183501

Status : Not Answered

Chosen Option : --

Q.14 एक परीक्षा में एक विद्यार्थी द्वारा प्राप्त अंकों से संबंधित नीचे दर्शायी गई तालिका से, भाषा और विज्ञान में औसत प्रतिशत ज्ञात करें।

विषय	अधिकतम अंक	प्राप्त अंक
अंग्रेज़ी	80	64
भाषा	75	54
गणित	100	75
विज्ञान	50	40
सामाजिक विज्ञान	40	30

- Ans
- A. 74
 - B. 80
 - C. 72
 - D. 76

Question ID : 630680183518

Status : Answered

Chosen Option : D

Q.15 A और B एक व्यवसाय में भागीदार हैं। A 15 महीनों के लिए पूँजी के $\frac{1}{5}$ भाग का योगदान करता है और B लाभ का $\frac{2}{3}$ प्राप्त करता है। B का धन व्यवसाय में कितने महीनों के लिए निवेश किया गया था?

- Ans
- A. $7\frac{1}{2}$
 - B. 7
 - C. 8
 - D. $6\frac{1}{2}$

Question ID : 630680183510

Status : Not Answered

Chosen Option : --

Q.16 दो कस्बों के बीच की दूरी 250 km है। दो मोटर चालक एक साथ एक दूसरे की ओर यात्रा आरंभ करते हैं। उनमें से एक की चाल दूसरे की तुलना में 5 km/h तेज़ है, और आरंभ करने के 1.5 hrs के बाद उनके बीच की दूरी 31 km रह जाती है। उनकी चालों का औसत ज्ञात करें।

- Ans
- A. 71
 - B. 73
 - C. 70
 - D. 75

Question ID : 630680183513

Status : Not Answered

Chosen Option : --

Q.17 यदि $a+b+c=0$ है, तो $\frac{a^2}{bc} + \frac{b^2}{ac} + \frac{c^2}{ab}$ का मान ज्ञात करें।

- Ans
- A. 0
 - B. 1
 - C. 2
 - D. 3

Question ID : 630680183520
Status : Answered
Chosen Option : A

Q.18 एक विक्रेता अपने माल पर क्रय मूल्य से 40% अधिक मूल्य अंकित करता है। यदि वह अंकित मूल्य पर 15% की छूट देता है, और यदि वह अंकित मूल्य पर 20% की छूट देता है तो लाभ के बीच का अंतर ₹94.85 होता है। क्रय मूल्य (₹ में) ज्ञात करें।

- Ans
- A. 1,355
 - B. 1,254
 - C. 1,326
 - D. 1,295

Question ID : 630680183508
Status : Answered
Chosen Option : A

Q.19 एक कैन में 50 L स्पिरिट और जल का घोल है जिसमें 40% स्पिरिट है। 5 L घोल निकाल दिया जाता है और 5 L स्पिरिट मिलाया जाता है। यही प्रक्रिया दो और बार की जाती है। अंत में घोल में जल का प्रतिशत ज्ञात करें (निकटतम पूर्णांक तक पूर्णांकित)।

- Ans
- A. 54%
 - B. 40%
 - C. 44%
 - D. 48%

Question ID : 630680183504
Status : Not Answered
Chosen Option : --

Q.20 एक गाँव की जनसंख्या पहले वर्ष में 5.5% बढ़ जाती है और दूसरे वर्ष में 2% घट जाती है और तीसरे वर्ष में पुनः 10% बढ़ जाती है। यदि तीसरे वर्ष के अंत में जनसंख्या पहले वर्ष के आरंभ की तुलना में 109832 अधिक थी, तो तीसरे वर्ष के अंत में जनसंख्या ज्ञात करें।

- Ans
- A. 780000
 - B. 840000
 - C. 800000
 - D. 815000

Question ID : 630680183512
Status : Not Answered
Chosen Option : --

Q.21 पाइप L और M एक टंकी को क्रमशः $1\frac{1}{2}h$ और $2\frac{1}{4}h$ में भर सकते हैं। दोनों को एक ही समय पर खोला जाता है लेकिन $\frac{1}{2}h$ के बाद, पाइप M काम करना बंद कर देता है। पाइप L को अकेले शेष टंकी को भरने में कितने min लगेंगे?

- Ans
- A. 45
 - B. 35
 - C. 30
 - D. 40

Question ID : 630680183517

Status : Answered

Chosen Option : C

Q.22 यदि $A : B : C = \frac{1}{3} : \frac{2}{3} : \frac{1}{4}$ है और $A - B = -28$ है, तो C का मान ज्ञात करें।

- Ans
- A. 21
 - B. 14
 - C. 7
 - D. 28

Question ID : 630680183509

Status : Answered

Chosen Option : A

Q.23 एक दुकानदार समान क्रय मूल्य वाली 120 वस्तुएं खरीदता है। वह 30% वस्तुओं को 25% लाभ पर, 20% वस्तुओं को 20% लाभ पर और शेष में से $66\frac{2}{3}\%$ को 10% हानि पर बेचता है। वह शेष वस्तुओं को 5 वस्तुओं के क्रय मूल्य के बराबर हानि पर बेचता है। संपूर्ण लेन-देन में उसका लाभ प्रतिशत क्या है?

- Ans
- A. 4%
 - B. 3%
 - C. 5%
 - D. 6%

Question ID : 630680183507

Status : Not Answered

Chosen Option : --

Q.24 निश्चित मूलधन P पर R% प्रति वर्ष की दर से साधारण ब्याज, P का $(\frac{16}{25})$ वां भाग है। यदि R वर्षों की संख्या (N) के बराबर है, तो N का मान ज्ञात करें।

- Ans
- A. 8
 - B. 5
 - C. 7.5
 - D. 6.5

Question ID : 630680183511

Status : Answered

Chosen Option : A

Q.25 A और B एक ही बिंदु से 2700 m के एक वृत्ताकार ट्रैक पर 27 km/h और 36 km/h की चाल से एक दूसरे की ओर दौड़ते हैं। वे पहली बार कितने समय (min में) के बाद मिलेंगे?

Ans

A. $1\frac{7}{9}$

B. $2\frac{4}{7}$

C. $2\frac{2}{7}$

D. $1\frac{5}{9}$

Question ID : 630680183514

Status : Answered

Chosen Option : D



INDIA